

2025

AVALIAÇÃO DIAGNÓSTICA



1978H0601

HISTÓRIA E GEOGRAFIA
6º ano do Ensino Fundamental

CADERNO
H0601

Nome da Escola

Nome do(a) estudante

Data de Nascimento do(a) estudante

--	--	--	--	--	--	--	--

Turma

Turno

Atenção! Transcreva as respostas do teste na área abaixo.

	A	B	C	D		A	B	C	D		A	B	C	D		A	B	C	D
01	<input type="radio"/>	<input type="radio"/>	<input type="radio"/>	<input type="radio"/>	08	<input type="radio"/>	<input type="radio"/>	<input type="radio"/>	<input type="radio"/>	15	<input type="radio"/>	<input type="radio"/>	<input type="radio"/>	<input type="radio"/>	22	<input type="radio"/>	<input type="radio"/>	<input type="radio"/>	<input type="radio"/>
02	<input type="radio"/>	<input type="radio"/>	<input type="radio"/>	<input type="radio"/>	09	<input type="radio"/>	<input type="radio"/>	<input type="radio"/>	<input type="radio"/>	16	<input type="radio"/>	<input type="radio"/>	<input type="radio"/>	<input type="radio"/>	23	<input type="radio"/>	<input type="radio"/>	<input type="radio"/>	<input type="radio"/>
03	<input type="radio"/>	<input type="radio"/>	<input type="radio"/>	<input type="radio"/>	10	<input type="radio"/>	<input type="radio"/>	<input type="radio"/>	<input type="radio"/>	17	<input type="radio"/>	<input type="radio"/>	<input type="radio"/>	<input type="radio"/>	24	<input type="radio"/>	<input type="radio"/>	<input type="radio"/>	<input type="radio"/>
04	<input type="radio"/>	<input type="radio"/>	<input type="radio"/>	<input type="radio"/>	11	<input type="radio"/>	<input type="radio"/>	<input type="radio"/>	<input type="radio"/>	18	<input type="radio"/>	<input type="radio"/>	<input type="radio"/>	<input type="radio"/>	25	<input type="radio"/>	<input type="radio"/>	<input type="radio"/>	<input type="radio"/>
05	<input type="radio"/>	<input type="radio"/>	<input type="radio"/>	<input type="radio"/>	12	<input type="radio"/>	<input type="radio"/>	<input type="radio"/>	<input type="radio"/>	19	<input type="radio"/>	<input type="radio"/>	<input type="radio"/>	<input type="radio"/>	26	<input type="radio"/>	<input type="radio"/>	<input type="radio"/>	<input type="radio"/>
06	<input type="radio"/>	<input type="radio"/>	<input type="radio"/>	<input type="radio"/>	13	<input type="radio"/>	<input type="radio"/>	<input type="radio"/>	<input type="radio"/>	20	<input type="radio"/>	<input type="radio"/>	<input type="radio"/>	<input type="radio"/>					
07	<input type="radio"/>	<input type="radio"/>	<input type="radio"/>	<input type="radio"/>	14	<input type="radio"/>	<input type="radio"/>	<input type="radio"/>	<input type="radio"/>	21	<input type="radio"/>	<input type="radio"/>	<input type="radio"/>	<input type="radio"/>					

01) (H00086877) **Leia o texto abaixo.**

[...] alguns lugares da África, como Nigéria, Togo e partes de Gana, utilizam o calendário iorubá, conhecido como *Kodojá*.

Esse calendário é usado pelo povo iorubá e é composto por semanas de quatro dias, sendo cada dia destinado a um orixá. [...]

O primeiro dia da semana do calendário iorubá é *Ojo Ògún*, conhecido como Dia de Ogum. Os adoradores de Ogum celebram a divindade com certos alimentos considerados os favoritos do orixá guerreiro [...].

WANDERMUREM, Isadora. *Kodojá*: conheça o calendário africano em que o ano não começa em 1º de janeiro. Terra, 2024. Disponível em: <https://meulink.fit/tyTsubKyqQiKJEX>. Acesso em: 20 set. 2024. Adaptado para fins didáticos. Fragmento.

Esse texto apresenta um calendário iorubá baseado em influências

- A) comerciais.
- B) militares.
- C) políticas.
- D) religiosas.

02) (H00091436) **Observe a imagem abaixo.**

Nurague – tipo de edificação comum no Período Neolítico



ANSA. Disponível em: <https://meulink.fit/RfkqrOxfimCZvna>. Acesso em: 7 out. 2024.

Essa imagem, relacionada ao início do sedentarismo humano, destaca um tipo de

- A) arquitetura.
- B) escrita.
- C) escultura.
- D) pintura.

03) (H00083024) **Observe a imagem abaixo.**



Disponível em: <https://meulink.fit/pVkeABCLuwmOztz>. Acesso em: 5 set. 2024.

Essa imagem mostra que, no decorrer do tempo, os meios de comunicação

- A) abandonaram o uso da escrita.
- B) diminuíram a velocidade na troca de mensagens.
- C) mantiveram os mesmos preços.
- D) modificaram as tecnologias de funcionamento.

04) (G00083505) **Observe a imagem abaixo.**

Parque do Sabiá em Uberlândia (Minas Gerais)



Prefeitura de Uberlândia. Disponível em: <https://meulink.fit/FIkoMBpOnzyVDGR>. Acesso em: 27 set. 2024.

Essa imagem retrata um espaço urbano que tem a função de

- A) cultivar produtos agrícolas.
- B) ofertar moradias populares.
- C) organizar vias de trânsito.
- D) proporcionar áreas de lazer.

05) (G040325F5) **Leia o texto abaixo.**

[...] a população negra produziu grande parte do café em São Paulo, produto que consolidou a industrialização do estado. Os negros também implantaram a estrada de ferro no interior paulista. [...] Trabalharam intensamente na produção de cana-de-açúcar, que, na passagem do século XVIII para o XIX, foi substituída pelas plantações do café. A força escrava também foi usada para a extração de ouro e diamantes nas regiões de Goiás, Mato Grosso e em Minas Gerais, na época do Brasil Colonial, e em diversas outras áreas.

A CONTRIBUIÇÃO do negro para o crescimento de São Paulo. Governo do Estado de São Paulo, 2004. Disponível em: <https://meulink.fit/TPZOWWwRMYWeSgW>. Acesso em: 23 jan. 2025. Adaptado para fins didáticos. Fragmento.

De acordo com esse texto, a população negra, trazida da África no processo de escravidão, foi utilizada no Brasil para práticas

- A) culturais.
- B) econômicas.
- C) políticas.
- D) religiosas.

06) (G00091076) **Leia o texto abaixo.**

Bendita modernidade
e a alta tecnologia.
Eu nunca pensei que um dia,
morando aqui no sertão,
falasse com meus parentes
em Castelo ou em Nascente,
ou em qualquer outro lugar
aonde se possa chegar
através da internet. [...] Eu
que ouvi rádio de pilha
e achava muito avançado
aquele móvel quadrado
que falava feito gente,
agora fico de frente
da tela de um celular,
escuto o bicho falar
e até vejo a imagem!

MACÊDO, Agostinho. *Bendita modernidade*. Disponível em: <https://meulink.fit/wDBYwEnQbIVDPvT>. Acesso em: 23 jan. 2025. Adaptado para fins didáticos. Fragmento.

Esse texto descreve que o avanço dos meios de comunicação contribuiu para

- A) a conexão de pessoas de diferentes locais.
- B) a promoção de melhorias no meio ambiente.
- C) a redução das desigualdades sociais.
- D) o aumento do contato físico entre povos.

07) (H00059607) **Leia o texto abaixo.**

O mineiro é profundamente ligado ao passado e à tradição familiar, estando sempre aberto para o novo, mas não deixando de lado a sua origem. [...] A comida mineira é resultado da união de várias culturas, com a mistura de vários ingredientes, pegando um de cada região e criando seu próprio prato [...]. Essa tradicionalidade¹, aliada à diversidade da comida mineira, traz consigo memórias afetivas que confortam aqueles que a experimentam.

***Vocabulário:**

¹tradicionalidade: característica do que é tradicional, tradição.

BATISTA, Joinglis Rosa; BERTOLDO, Monique Campos; LAMOUNIER, Maria Aparecida Teixeira. Arquivo Público da Cidade de Belo Horizonte - APCBH. Disponível em: <https://meulink.fit/OonozPswQuRjZz>. Acesso em: 23 abr. 2024. Adaptado para fins didáticos. Fragmento.

Esse texto destaca qual elemento que faz parte da memória de Minas Gerais?

- A) A culinária.
- B) As religiões.
- C) O comércio.
- D) Os sotaques.


08) (H00037579) **Leia o texto abaixo.**

O ano para os povos indígenas do Rio Tiquié, no Noroeste Amazônico, divide-se em várias estações, identificadas a partir da passagem de constelações astronômicas associadas a diversos processos ecossistêmicos e climáticos. O ano começa com a Enchente de Jararaca, no começo de novembro. Essa região é caracterizada por muita chuva distribuída por todo o ano, com alguns curtos períodos de estiagem. [...]

CALENDÁRIO indígena dos ciclos do rio Tiquié. InfoAmazônia. Disponível em: <https://linker.fit/dDlYmQuksyAOTR>. Acesso em: 16 fev. 2024. Adaptado para fins didáticos. Fragmento.

De acordo com esse texto, o cotidiano dos povos indígenas do Rio Tiquié está relacionado

- A) aos conflitos políticos.
- B) aos recursos naturais.
- C) às atividades militares.
- D) às práticas comerciais.


09) (H00086873) **Observe a imagem abaixo.**

Disponível em: <https://meulink.fit/URjNUUYQaWsXxkf>. Acesso em: 19 set. 2024.

Essa imagem representa qual direito importante para a cidadania dos brasileiros?

- A) Educação.
- B) Moradia.
- C) Saúde.
- D) Segurança.

10) (G00111328) **Observe as imagens abaixo.**



Essas imagens retratam uma transformação do trabalho no campo ocasionada

- A) pela diminuição da produtividade agrícola.
- B) pela redução do tamanho das fazendas.
- C) pelo aumento da preservação ambiental.
- D) pelo desenvolvimento de novas tecnologias.

11) (G00083504) **Observe a imagem abaixo.**

Ouro Preto (Minas Gerais)



BERGWITZ, Uwe. Disponível em: <https://meulink.fit/wXaknPFyzDocAgT>. Acesso em: 23 jan. 2025.

A forma de organização do espaço geográfico retratada nessa imagem é característica de

- A) áreas urbanas.
- B) paisagens naturais.
- C) regiões agrícolas.
- D) zonas industriais.

12) (G00083507) **Observe as imagens abaixo.**

Campus da Universidade Federal de Juiz de Fora

Década de 80



2014

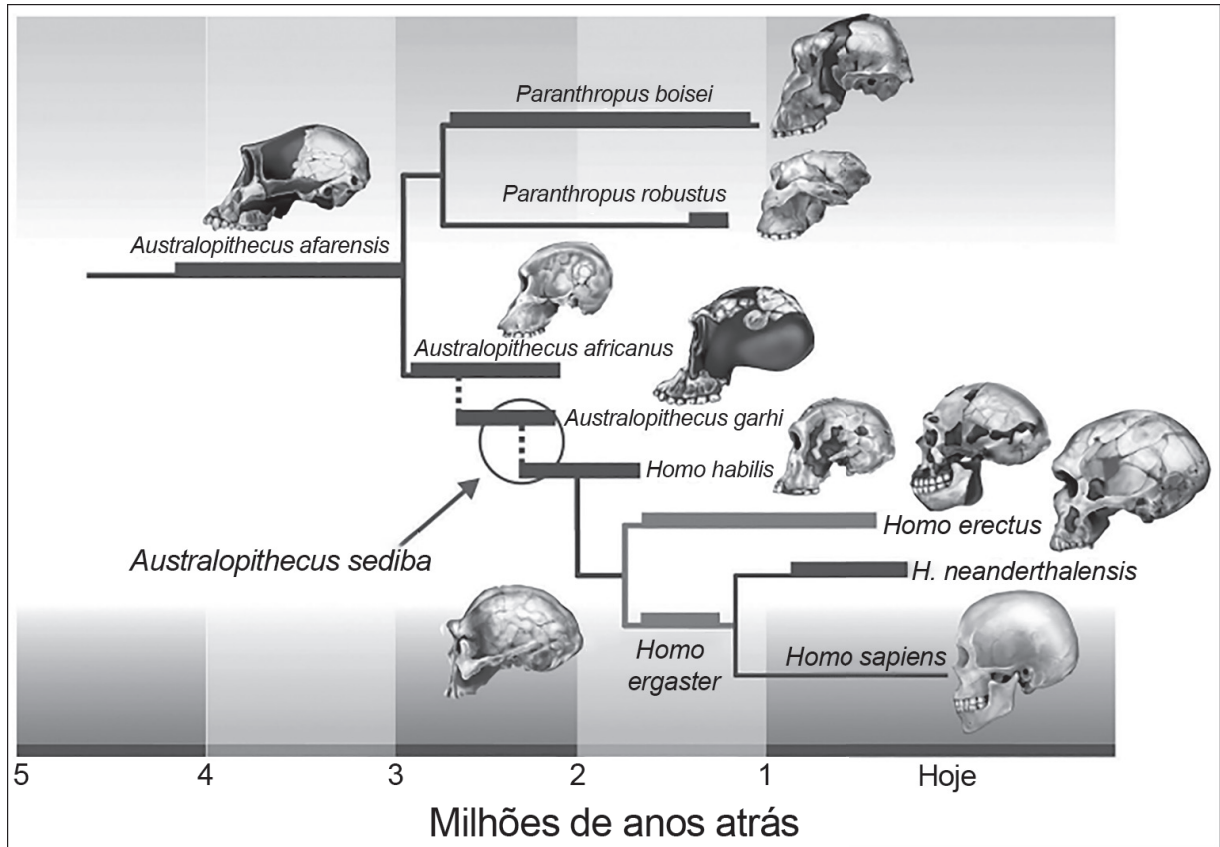


DORNELAS, Roberto; DORNELAS, Alexandre. Disponível em: <https://meulink.fit/iuFLRdILuMihnQr>. Acesso em: 23 set. 2024.
Adaptado para fins didáticos.

Essas imagens retratam qual transformação na paisagem de Juiz de Fora ao longo do tempo?

- A) A diminuição da atividade industrial.
- B) A redução da concentração populacional.
- C) O aumento da produção agrícola.
- D) O crescimento da área urbana.

13) (H00082946) **Observe a imagem abaixo.**



Disponível em: <https://linkerfit.me/gKdmnkZFgoPbgoq>. Acesso em: 2 set. 2024.

Essa imagem destaca parte da história

- A) da criação da escrita.
- B) da evolução humana.
- C) do desenvolvimento tecnológico.
- D) do uso do comércio pela humanidade.

14) (H00056324) **Leia o texto abaixo.**

O nomadismo consiste em uma prática em que um homem ou grupos humanos vagueiam por diferentes territórios. Nesse processo de locomoção pelo espaço, essas comunidades utilizam-se dos recursos oferecidos pela natureza até esses se esgotarem. Com o fim desses recursos, esses grupos se deslocam até encontrarem outra região que ofereça as condições necessárias para a sobrevivência. [...]

HISTÓRIA - As mudanças. Conexão Escola - SME Goiânia. Disponível em: <https://meulink.fit/YrHPmYQOTVKFTVn>. Acesso em: 19 mar. 2024. Adaptado para fins didáticos. Fragmento.

Com base nesse texto, o nomadismo pré-histórico foi uma forma de

- A) arte.
- B) comércio.
- C) esporte.
- D) migração.

15) (H00059606) **Observe a imagem abaixo.**

Santuário do Senhor Bom Jesus de Matosinhos, em Congonhas



COUTO, Marden/Turismo de Minas. Disponível em: <https://meulink.fit/wTRnoadZeQEyHsR>. Acesso em: 31 jan. 2025.

Essa imagem retrata um local de Minas Gerais que representa a sua

- A) atividade política.
- B) memória religiosa.
- C) organização militar.
- D) prática econômica.

16) (G00090000) **Leia o texto abaixo.**

Quando as montanhas de Minas conversam,
elas falam de um mar só delas.
Mar de folhas e flores, árvores e terras,
pedras e precipícios.
Lembram-se de como foram esculpidas¹,
uma a uma. [...]
Cada montanha em Minas desenha no infinito céu
suas curvas,
seus verdes transformados em azuis pela distância.
Elas carregam este mistério de ser o berço das fontes,
o secreto ventre de onde nascem os rios.

***Vocabulário:**

¹esculpidas: dar forma a algo, moldar.

FONTES, Elizabeth. *Montanhas*. Academia Joinvilense, 2022. Disponível em: <https://meulink.fit/jSiMEjqwOvYAXhA>. Acesso em: 23 set. 2024. Fragmento.

Esse texto descreve a paisagem de Minas Gerais por meio de quais características?

- A) Comerciais.
- B) Históricas.
- C) Naturais.
- D) Urbanas.

17) (G00111329) **Observe a imagem abaixo.**



Disponível em: <https://abrir.link/VLyAM>. Acesso em: 13 jan. 2025. Adaptado para fins didáticos.

Essa imagem retrata qual característica da evolução dos meios de transporte ao longo do tempo?

- A) Ampliação do tamanho dos veículos.
- B) Desenvolvimento de novas tecnologias.
- C) Queda da emissão de poluentes.
- D) Redução da velocidade dos veículos.

18) (G00091078) **Observe a imagem abaixo.**



SANTOS, Arionauro da Silva. *Charge Exercício Físico no Calor*. Arionauro Cartuns, 2020. Disponível em: <https://meulink.fit/qmxYJFMDPpXbUjq>. Acesso em: 23 jan. 2025. Adaptado para fins didáticos.

Qual ação humana intensifica o problema ambiental urbano retratado nessa imagem?

- A) A contaminação do solo.
- B) A poluição da água.
- C) A prática do consumismo.
- D) A retirada da vegetação.

19) (H06122417) **Leia o texto abaixo.**

O uso da escrita deu início a um tipo de comunicação que tornava possível entrar em contato com mensagens produzidas por pessoas que haviam morrido há séculos ou distantes milhares de quilômetros.

Sabe-se que a escrita surgiu em diferentes lugares, tornando-se um poderoso apoio para a memória humana. Os povos antigos usavam as marcas gráficas inicialmente como uma ferramenta para registro do movimento do comércio, depois como registros de todos os acontecimentos que envolviam a sociedade. [...]

AMARAL, Suely. *História da escrita* – Surgimento e importância dessa linguagem. Uol Educação. Disponível em: <https://linker.fit/JAZlhTpeyoWKuNc>. Acesso em: 25 out. 2022. Adaptado para fins didáticos. Fragmento.

De acordo com esse texto, o surgimento da escrita

- A) diminuiu o contato entre as pessoas.
- B) incentivou a guerra entre as pessoas.
- C) representou a queda das tecnologias.
- D) transformou o cotidiano das sociedades.


20) (H010469) **Observe a imagem abaixo.**

Disponível em: <https://meulink.fit/dnamxFxsbsUDratE>. Acesso em: 27 set. 2023.

Com base nessa imagem, o jongo representa qual tipo de patrimônio imaterial do Brasil?

- A) Culto religioso.
- B) Expressão cultural.
- C) Produção artesanal.
- D) Saber culinário.

21) (H040157F5) **Observe as imagens abaixo.**



Essas imagens mostram um meio de transporte que, com o passar do tempo,

- A) ajudou na preservação do meio ambiente.
- B) continuou sem elementos de segurança.
- C) dificultou a comunicação entre as pessoas.
- D) mudou a tecnologia em sua estrutura.

22) (H001482) **Observe a imagem abaixo.**



Disponível em: <https://meulink.fit/iROwmzMXPnFAYPh>. Acesso em: 14 mar. 2023.

Essa imagem retrata um

- A) ato de cidadania.
- B) benefício econômico.
- C) dever das crianças.
- D) privilégio social.

23) (G05005817) **Observe a imagem abaixo.**

Parque Eólico



Disponível em: <https://tinyurl.com/2xuc94pv>. Acesso em: 9 mar. 2020.

Essa imagem apresenta uma estrutura que utiliza o vento como recurso natural para a

- A) captação de água.
- B) criação de ondas.
- C) extração de petróleo.
- D) produção de energia.

24) (G001416) **Observe a imagem abaixo.**



Disponível em: <https://rb.gy/x0tj6m>. Acesso em: 10 nov. 2023.

Essa imagem retrata um problema ambiental que é causado

- A) pelo despejo irregular de lixo no mar.
- B) pelo aumento do nível dos mares.
- C) pela emissão de gases na atmosfera.
- D) pela alteração da temperatura mundial.

25) (G000918) **Observe o mapa abaixo.**



Disponível em: <https://tinyurl.com/3n86d2em>. Acesso em: 26 maio 2022.

Nesse mapa, as setas foram utilizadas para indicar

- A) a atuação de massas de ar no território nacional.
- B) as direções de crescimento do território dos estados.
- C) as estradas que ligam os diferentes estados.
- D) o deslocamento da população entre os estados.

26) (G00032537) **Observe a imagem abaixo.**



Disponível em: <https://meulink.fit/MkgRkPBefQiOOUr>. Acesso em: 25 jan. 2024.

Essa imagem retrata qual característica existente na população brasileira?

- A) Conflito étnico.
- B) Desigualdade de gênero.
- C) Diversidade cultural.
- D) Segregação racial.

